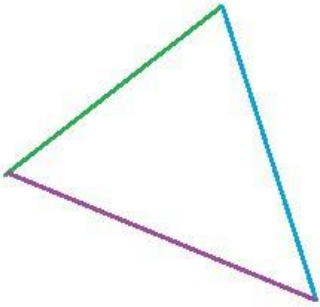


Занятие 29. Тема: Состав числа 11.

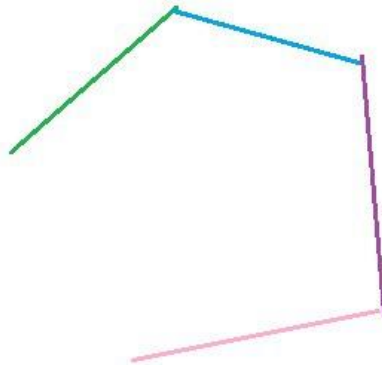
Устный счет

1. Назови число, которое следует за числом 4, 6, 8.
2. Назови число, которое предшествует числу 3, 5, 7, 9.
3. Первое число 5, а другое на 3 больше. Чему равно второе число?
4. Одно число 7, а второе на 5 меньше. Чему равно второе число?
6. Какое число надо прибавить к 6, чтобы получить 9?
7. Какое число надо прибавить к 7, чтобы получить 10?

Ломаная линия замкнутая




замкнутая ломаная
из трех звеньев




незамкнутая ломаная
из четырех звеньев

С.8-9 в тетради «Геометрические фигуры»

С.3 в Прописи.

	
1	10
2	9
3	8
4	7
5	6
6	5
7	4
8	3
9	2
10	1



Домашнее задание:

С.27, 28 в тетради «Счет»

