

Диаграммы в электронных таблицах

1. Дан фрагмент электронной таблицы. Какое число должно быть в ячейке D2, чтобы построенная после выполнения вычислений диаграмма по значениям диапазона ячеек A2:D2 соответствовала рисунку?

	A	B	C	D
1	1		5	3
2	=C1+D1	=(A1+A2)/D1	=2*B2-A1	



2. Дан фрагмент электронной таблицы. Какие из формул, приведённых ниже, могут быть записаны в ячейке D2, чтобы построенная после выполнения вычислений диаграмма по значениям диапазона ячеек A2:D2 соответствовала рисунку?

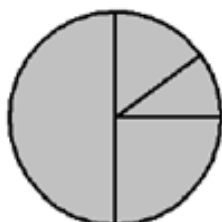
	A	B	C	D
1	1		5	3
2	=C1+D1	=(A1+A2)/D1	=2*B2-A1	



- 1) =D1+2*A1 2) =(C1-A1)*2 3) =D1+B2 4) =(C1+A1)/2
5) =C1+D1

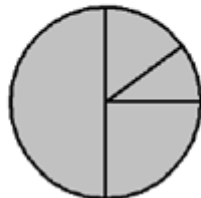
3. Дан фрагмент электронной таблицы. Какое число должно быть в ячейке A2, чтобы построенная после выполнения вычислений диаграмма по значениям диапазона ячеек A2:D2 соответствовала рисунку?

	A	B	C	D
1	1	5		3
2		=(A1+5)/D1	=B1	=B2*C2



4. Дан фрагмент электронной таблицы. Какие из формул, приведённых ниже, могут быть записаны в ячейке A2, чтобы построенная после выполнения вычислений диаграмма по значениям диапазона ячеек A2:D2 соответствовала рисунку?

	A	B	C	D
1	1	5		3
2		$=(A1+5)/D1$	$=B1$	$=B2*C2$



- 1) $=D1+A1$ 2) $=(B1+D1)/2$ 3) $=B1-B2$ 4) $=D2-B2$
 5) $=C2-2*A1$

✓ 5. Дан фрагмент электронной таблицы. Какое число должно быть в ячейке D2, чтобы построенная после выполнения вычислений диаграмма по значениям диапазона ячеек A2:D2 соответствовала рисунку?

	A	B	C	D
1	1		3	6
2	$=(A1+C1)/2$	$=(D1-A2)/2$	$=3*(C1+A1)$	



6. Дан фрагмент электронной таблицы. Какие из формул, приведённых ниже, могут быть записаны в ячейке D2, чтобы построенная после выполнения вычислений диаграмма по значениям диапазона ячеек A2:D2 соответствовала рисунку?

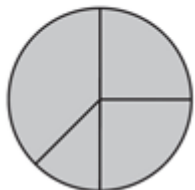
	A	B	C	D
1	1		3	6
2	$=(A1+C1)/2$	$=(D1-A2)/2$	$=3*(C1+A1)$	



- 1) $=D1/C1$ 2) $=3*C1+A1$ 3) $=B2-A1$ 4) $=C1-A1$ 5) $=C1*B2$

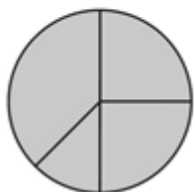
7. Дан фрагмент электронной таблицы. Какое число должно быть в ячейке D2, чтобы построенная после выполнения вычислений диаграмма по значениям диапазона ячеек A2:D2 соответствовала рисунку?

	A	B	C	D
1	1		3	6
2	=D1-A1	=C1-A1	=(A1+C1)*2	



8. Дан фрагмент электронной таблицы. Какие из формул, приведённых ниже, могут быть записаны в ячейке D2, чтобы построенная после выполнения вычислений диаграмма по значениям диапазона ячеек A2:D2 соответствовала рисунку?

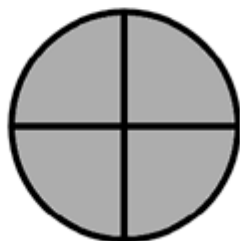
	A	B	C	D
1	1		3	6
2	=D1-A1	=C1-A1	=(A1+C1)*2	



- 1) $=2*A1$ 2) $=C2-C1$ 3) $=D1+2*A1$ 4) $=D1/C1+C1$ 5) $=(A1+C1)*2$

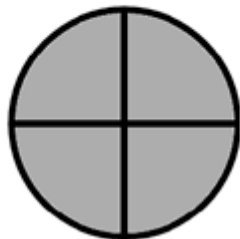
9. Дан фрагмент электронной таблицы. Какое число должно быть записано в ячейке B1, чтобы построенная после выполнения вычислений диаграмма по значениям диапазона ячеек A2:D2 соответствовала рисунку?

	A	B	C	D
1	3		6	4
2	=D1-1	=B1/6	=A1	=C1/2



10. Дан фрагмент электронной таблицы. Какое число должно быть записано в ячейке В1, чтобы построенная после выполнения вычислений диаграмма по значениям диапазона ячеек А2:D2 соответствовала рисунку?

	A	B	C	D
1	4		6	11
2	=C1*2	=B1-2	=D1+1	=A1*3



11. Дан фрагмент электронной таблицы. Какое число должно быть в ячейке С2, чтобы построенная после выполнения вычислений диаграмма по значениям диапазона ячеек А2:D2 соответствовала рисунку?

	A	B	C	D
1	2	4	6	8
2	=B1/A1	=C1/A1+1		=D1/A1



12. Дан фрагмент электронной таблицы. Какие из формул, приведённых ниже, могут быть записаны в ячейке С2, чтобы построенная после выполнения вычислений диаграмма по значениям диапазона ячеек А2:D2 соответствовала рисунку?

	A	B	C	D
1	2	4	6	8
2	=B1/A1	=C1/A1+1		=D1/A1



- 1) =D1-1 2) =C1-B1 3) =A1-1 4) =C1+1 5) =D1-C1

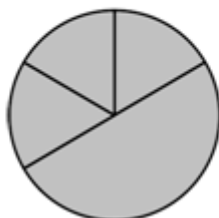
13. Дан фрагмент электронной таблицы. После выполнения вычислений была построена диаграмма по значениям диапазона ячеек В1:В4. Укажите адрес ячейки, соответствующий выделенной области на диаграмме.

	A	B
1	3	=A2-A1
2	12	=B1-B3
3	4	=A2/A4
4	2	=A3+A4



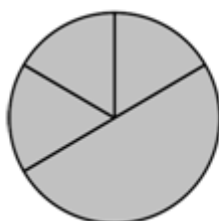
14. Дан фрагмент электронной таблицы. Какое число должно быть в ячейке А2, чтобы построенная после выполнения вычислений диаграмма по значениям диапазона ячеек А2:D2 соответствовала рисунку?

	A	B	C	D
1	3	4	2	5
2		=A1*3	=B1-1	=D1-2



15. Дан фрагмент электронной таблицы. Какие из формул, приведённых ниже, могут быть записаны в ячейке А2, чтобы построенная после выполнения вычислений диаграмма по значениям диапазона ячеек А2:D2 соответствовала рисунку?

	A	B	C	D
1	3	4	2	5
2		=A1*3	=B1-1	=D1-2



- 1) =B1/C1 2) =D1*2 3) =D1-C1 4) =(B1+D1)/3 5) =A1

16. Дан фрагмент электронной таблицы. Какое число должно быть в ячейке B2, чтобы построенная после выполнения вычислений диаграмма по значениям диапазона ячеек A2:D2 соответствовала рисунку?

	A	B	C	D
1	5	2	1	3
2	=B1/2+3		=A1*3	=D1+C1



17. Дан фрагмент электронной таблицы. Какие из формул, приведённых ниже, могут быть записаны в ячейке B2, чтобы построенная после выполнения вычислений диаграмма по значениям диапазона ячеек A2:D2 соответствовала рисунку?

	A	B	C	D
1	5	2	1	3
2	=B1/2+3		=A1*3	=D1+C1



- 1) =B1*2 2) =B1*7+C1 3) =A1+D1 4) =B1*6+1 5) =D1*5

18. Дан фрагмент электронной таблицы. Какое число должно быть в ячейке D2, чтобы построенная после выполнения вычислений диаграмма по значениям диапазона ячеек A2:D2 соответствовала рисунку?

	A	B	C	D
1	6		6	4
2	=(C1+A1)/2	=C1-D1	=A2-D1	



19. Дан фрагмент электронной таблицы. Какие из формул, приведённых ниже, могут быть записаны в ячейке D2, чтобы построенная после выполнения вычислений диаграмма по значениям диапазона ячеек A2:D2 соответствовала рисунку?

	A	B	C	D
1	6		6	4
2	$= (C1+A1)/2$	$= C1-D1$	$= A2-D1$	



- 1) $= A1-2$ 2) $= A1-4$ 3) $= D1*2$ 4) $= D1-2$ 5) $= C1/3$

20. Дан фрагмент электронной таблицы. Какое число должно быть в ячейке C2, чтобы построенная после выполнения вычислений диаграмма по значениям диапазона ячеек A2:D2 соответствовала рисунку?

	A	B	C	D
1	4		3	2
2	$= (A1+D1)/2$	$= C1-D1$		$= A1-1$



21. Дан фрагмент электронной таблицы. Какие из формул, приведённых ниже, могут быть записаны в ячейке C2, чтобы построенная после выполнения вычислений диаграмма по значениям диапазона ячеек A2:D2 соответствовала рисунку?

	A	B	C	D
1	4		3	2
2	$= (A1+D1)/2$	$= C1-D1$		$= A1-1$



- 1) $= A1-1$ 2) $= D1+1$ 3) $= A1-2$ 4) $= C1-D1$ 5) $= A1/4$

22. Дан фрагмент электронной таблицы. Какое число должно быть в ячейке A2, чтобы построенная после выполнения вычислений диаграмма по значениям диапазона ячеек A2:D2 соответствовала рисунку?

	A	B	C	D
1	4	6	3	2
2		=B1/C1	=C1*D1	=A1-D1



23. Дан фрагмент электронной таблицы. Какие из формул, приведённых ниже, могут быть записаны в ячейке A2, чтобы построенная после выполнения вычислений диаграмма по значениям диапазона ячеек A2:D2 соответствовала рисунку?

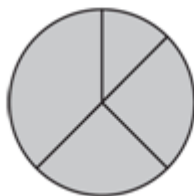
	A	B	C	D
1	4	6	3	2
2		=B1/C1	=C1*D1	=A1-D1



- 1) =A1-1 2) =B1-A1 3) =A1+C1 4) =A1-D1 5) =2*D1-2

24. Дан фрагмент электронной таблицы. Какое число должно быть в ячейке C2, чтобы построенная после выполнения вычислений диаграмма по значениям диапазона ячеек A2:D2 соответствовала рисунку?

	A	B	C	D
1	2	4	6	8
2	=B1-A1	=A1*2		=D1-2



25. Дан фрагмент электронной таблицы. Какие из формул, приведённых ниже, могут быть записаны в ячейке С2, чтобы построенная после выполнения вычислений диаграмма по значениям диапазона ячеек А2:D2 соответствовала рисунку?

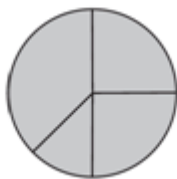
	A	B	C	D
1	2	4	6	8
2	=B1-A1	=A1*2		=D1-2



- 1) =A1-1 2) =C1+1 3) =C1+B1 4) =C1-A1 5) =D1/2

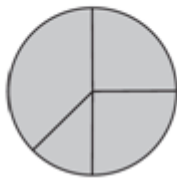
26. Дан фрагмент электронной таблицы. Какое число должно быть в ячейке D2, чтобы построенная после выполнения вычислений диаграмма по значениям диапазона ячеек А2:D2 соответствовала рисунку?

	A	B	C	D
1	4	2	3	1
2	=A1-B1	=C1-D1	=B1-1	



27. Дан фрагмент электронной таблицы. Какие из формул, приведённых ниже, могут быть записаны в ячейке D2, чтобы построенная после выполнения вычислений диаграмма по значениям диапазона ячеек А2:D2 соответствовала рисунку?

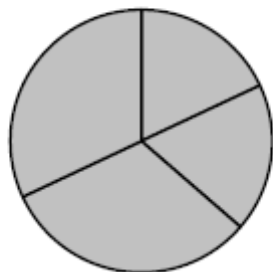
	A	B	C	D
1	4	2	3	1
2	=A1-B1	=C1-D1	=B1-1	



- 1) =A1-2 2) =A1-1 3) =C1+D1 4) =B1+D1 5) =2*B1-D1

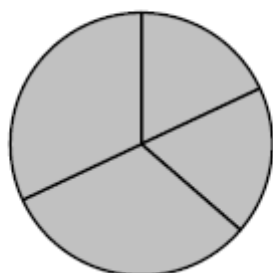
28. Дан фрагмент электронной таблицы. Какое число должно быть в ячейке A2, чтобы построенная после выполнения вычислений диаграмма по значениям диапазона ячеек A2:D2 соответствовала рисунку?

	A	B	C	D
1	3	4	2	5
2		=D1-1	=A1+B1	=C1+D1



29. Дан фрагмент электронной таблицы. Какие из формул, приведённых ниже, могут быть записаны в ячейке A2, чтобы построенная после выполнения вычислений диаграмма по значениям диапазона ячеек A2:D2 соответствовала рисунку?

	A	B	C	D
1	3	4	2	5
2		=D1-1	=A1+B1	=C1+D1



- 1) =D1-A1 2) =B1/C1 3) =D1-C1+1 4) =B1*4 5) =C1*2