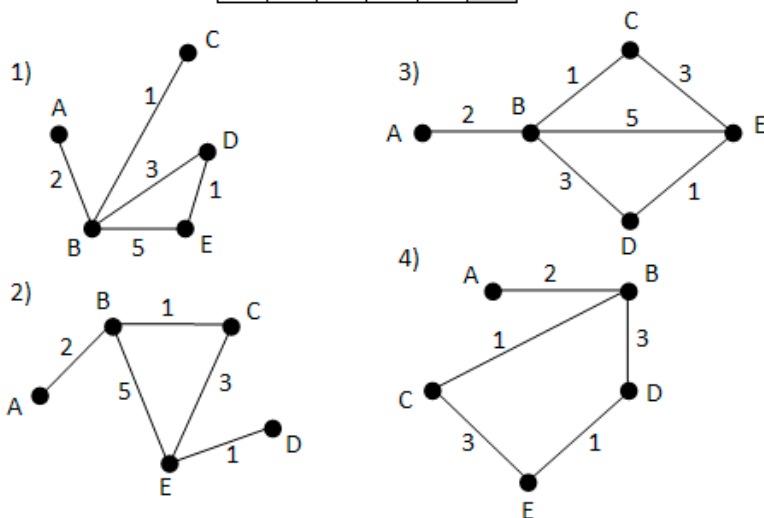


Задача 4 – Анализ информационных моделей. Кратчайший путь в графе

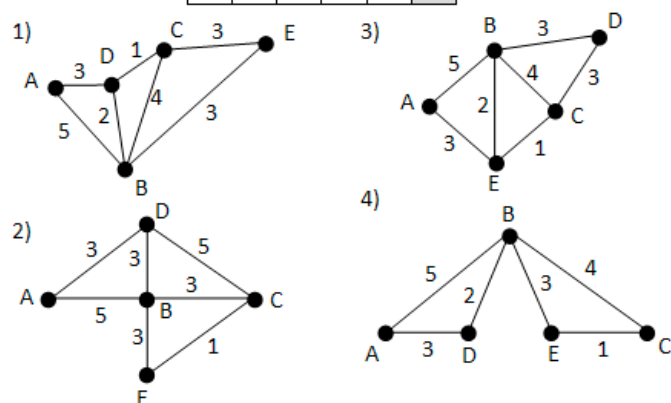
1. У Кати Ивановой родственники живут в 5 разных городах России. Расстояния между городами внесены в таблицу. Катя перерисовала её в блокнот в виде графа. Считая, что девочка не ошиблась при копировании, укажите, какой граф у Кати в тетради. В ответе введите номер графа на рисунке.

	A	B	C	D	E
A		2			
B	2		1	3	5
C		1			3
D		3			1
E		5	3	1	



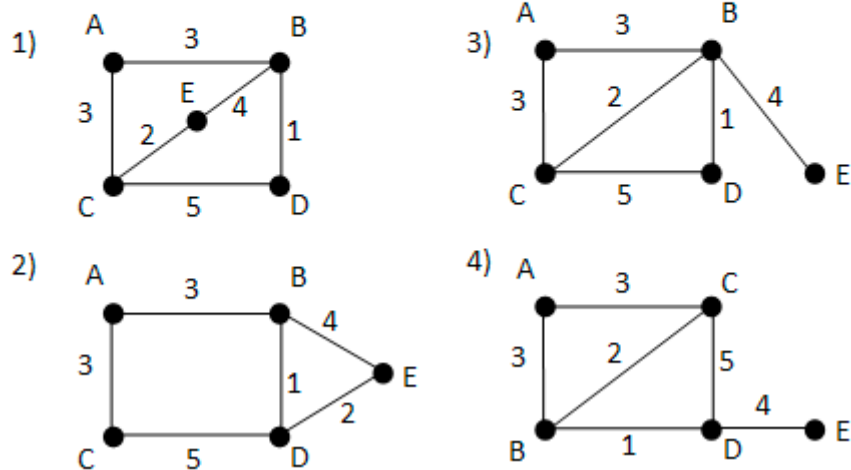
2. У Пети Иванова родственники живут в 5 разных городах России. Расстояния между городами внесены в таблицу. Петя перерисовал её в блокнот в виде графа. Считая, что мальчик не ошибся при копировании, укажите, какой граф у Пети в тетради. В ответе введите номер графа на рисунке.

	A	B	C	D	E
A		5		3	
B	5		4	2	3
C		4		1	3
D	3	2	1		
E		3	3		



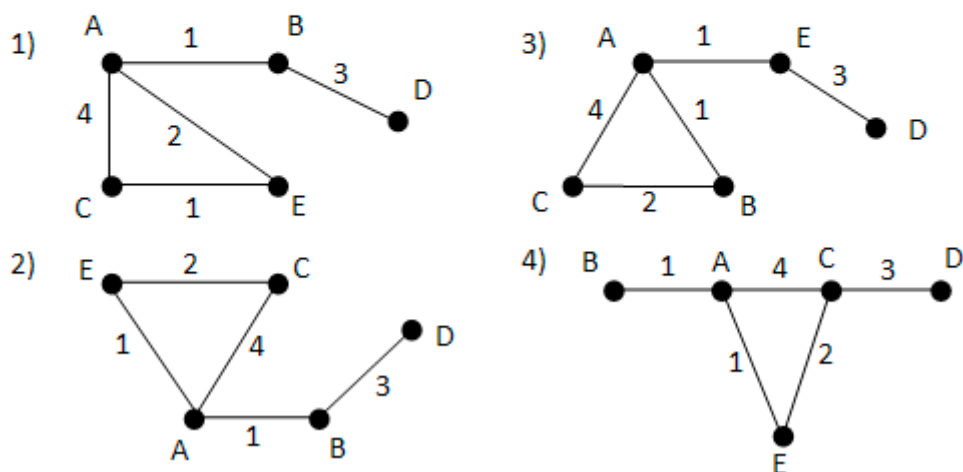
3. В таблице приведена стоимость перевозок между пятью железнодорожными станциями, обозначенными буквами А, В, С, D и E. Укажите схему, соответствующую таблице.

	A	B	C	D	E
A		3	3		
B	3		2	1	4
C	3	2		5	
D		1	5		
E		4			



4. В таблице приведена стоимость перевозок между пятью железнодорожными станциями, обозначенными буквами А, В, С, D и E. Укажите схему, соответствующую таблице.

	A	B	C	D	E
A		1	4		1
B	1			3	
C	4				2
D		3			
E	1		2		



5. Учительница Мария Петровна живёт на станции В, а работает на станции D. Чтобы успеть с утра на уроки, она должна ехать по самой короткой дороге. Проанализируйте таблицу и укажите длину кратчайшего пути от станции В до станции D.

	A	B	C	D	E
A		1			2
B	1		7		
C		7		1	2
D			1		6
E	2		2	6	

6. Учитель Иван Петрович живёт на станции А, а работает на станции D. Чтобы успеть с утра на уроки, он должен ехать по самой короткой дороге. Проанализируйте таблицу и укажите длину кратчайшего пути от станции А до станции D.

	A	B	C	D	E
A		1			1
B	1			5	
C				1	2
D		5	1		7
E	1		2	7	

7. Иван-Царевич спешит выручить Марию-Царевну из плена Кощея. В таблице указана протяжённость дорог между пунктами, через которые он может пройти. Укажите длину самого длинного участка кратчайшего пути от Ивана-Царевича до Марьи Царевны (от точки И до точки М). Передвигаться можно только по дорогам, указанным в таблице.

	A	Б	В	Г	И	М
A			1		1	
Б			2		1	3
В	1	2				
Г					6	1
И	1	1		6		8
М		3		1	8	

8. Между населёнными пунктами А, В, С, D, E, F построены дороги, протяжённость которых (в километрах) приведена в таблице. Определите длину кратчайшего пути между пунктами А и D. Передвигаться можно только по дорогам, протяжённость которых указана в таблице.

	A	B	C	D	E	F
A		5	4	10		1
B	5			4		
C	4				1	7
D	10	4			3	5
E			1	3		2
F	1		7	5	2	

9. Между населёнными пунктами А, В, С, D, E, F построены дороги, протяжённость которых (в километрах) приведена в таблице. Определите длину кратчайшего пути между пунктами А и F. Передвигаться можно только по дорогам, протяжённость которых указана в таблице.

	A	B	C	D	E	F
A		5	8	10		12
B	5			4		
C	8				1	7
D	10	4				5
E			1			2
F	12		7	5	2	

10. Между населёнными пунктами А, В, С, D, E, F построены дороги, протяжённость которых (в километрах) приведена в таблице. Определите длину кратчайшего пути между пунктами А и D. Передвигаться можно только по дорогам, протяжённость которых указана в таблице.

	A	B	C	D	E	F
A		5	3			
B	5			6	2	
C	3				5	4
D		6			3	5
E		2	5	3		
F			4	5		

11. Между населёнными пунктами А, В, С, D, E, F построены дороги, протяжённость которых (в километрах) приведена в таблице. Определите длину кратчайшего пути между пунктами А и D. Передвигаться можно только по дорогам, протяжённость которых указана в таблице.

	A	B	C	D	E	F
A		8	3			
B	8			3		
C	3				4	3
D		3			1	3
E			4	1		2
F			3	3	2	

12. Между населёнными пунктами А, В, С, D построены дороги, протяжённость которых (в километрах) приведена в таблице. Определите длину кратчайшего пути между пунктами А и С. Передвигаться можно только по дорогам, протяжённость которых указана в таблице.

	A	B	C	D
A		2	7	4
B	2		5	1
C	7	5		2
D	4	1	2	

13. Между населёнными пунктами А, В, С, D, E построены дороги, протяжённость которых (в километрах) приведена в таблице. Определите длину кратчайшего пути между пунктами А и D. Передвигаться можно только по дорогам, протяжённость которых указана в таблице.

	A	B	C	D	E
A		5	6	10	5
B	5			4	
C	6			2	7
D	10	4	2		5
E	5		7	5	

14. Между населёнными пунктами А, В, С, D, E построены дороги, протяжённость которых (в километрах) приведена в таблице. Определите длину кратчайшего пути между пунктами В и E. Передвигаться можно только по дорогам, протяжённость которых указана в таблице.

	A	B	C	D	E
A		2	1		5
B	2		4		
C	1	4		1	4
D			1		2
E	5		4	2	

15. Между населёнными пунктами А, В, С, D, E построены дороги, протяжённость которых (в километрах) приведена в таблице. Определите длину кратчайшего пути между пунктами А и D. Передвигаться можно только по дорогам, протяжённость которых указана в таблице.

	A	B	C	D	E
A		1	5		2
B	1			6	
C	5			1	7
D		6	1		
E	2		7		

16. Между населёнными пунктами А, В, С, D, E построены дороги, протяжённость которых (в километрах) приведена в таблице. Определите длину кратчайшего пути между пунктами В и E. Передвигаться можно только по дорогам, протяжённость которых указана в таблице.

	A	B	C	D	E
A		6		1	4
B	6		2	5	
C		2		2	
D	1	5	2		6
E	4			6	

17. Между населёнными пунктами A, B, C, D, E, F построены дороги, протяжённость которых (в километрах) приведена в таблице. Определите длину кратчайшего пути между пунктами A и D. Передвигаться можно только по дорогам, протяжённость которых указана в таблице.

	A	B	C	D	E	F
A		8	3			
B	8			3		
C	3				4	1
D		3			1	3
E			4	1		2
F			1	3	2	

18. Между населёнными пунктами A, B, C, D, E, F построены дороги, протяжённость которых (в километрах) приведена в таблице. Определите длину кратчайшего пути между пунктами A и F. Передвигаться можно только по дорогам, протяжённость которых указана в таблице.

	A	B	C	D	E	F
A		3				
B	3		2			
C		2			2	
D					1	1
E			2	1		3
F				1	3	

19. Между населёнными пунктами A, B, C, D, E, F построены дороги, протяжённость которых (в километрах) приведена в таблице. Определите длину кратчайшего пути между пунктами A и F. Передвигаться можно только по дорогам, протяжённость которых указана в таблице.

	A	B	C	D	E	F
A		3	5	1		15
B	3		1			
C	5	1		1		
D	1		1		2	6
E				2		2
F	15			6	2	

20. Между населёнными пунктами A, B, C, D, E построены дороги, протяжённость которых (в километрах) приведена в таблице. Определите длину кратчайшего пути между пунктами A и E. Передвигаться можно только по дорогам, протяжённость которых указана в таблице.

	A	B	C	D	E
A		2	5	1	
B	2		1		
C	5	1		3	2
D	1		3		
E			2		

21. Машинист электропоезда должен добраться из пункта А в пункт С за 4 часа. Из представленных таблиц выберите такую, согласно которой машинист сможет доехать из пункта А в пункт С за это время. В ячейках таблицы указано время (в часах), которое занимает дорога из одного пункта в другой. Передвигаться можно только по дорогам, указанным в таблицах. В ответе введите номер таблицы.

1)

	A	B	C	D
A		4	8	1
B	4		3	
C	8	3		
D	1			

3)

	A	B	C	D
A		8		3
B	8		3	
C		3		4
D	3		4	

2)

	A	B	C	D
A				2
B				4
C				6
D	2	4	6	

4)

	A	B	C	D
A		1		8
B	1			2
C				1
D	8	2	1	

22. Машинист электропоезда должен добраться из пункта А в пункт С за 6 часов. Из представленных таблиц выберите такую, согласно которой машинист сможет доехать из пункта А в пункт С за это время. В ячейках таблицы указано время (в часах), которое занимает дорога из одного пункта в другой. Передвигаться можно только по дорогам, указанным в таблицах. В ответе введите номер таблицы.

1)

	A	B	C	D
A		2	8	10
B	2		6	
C	8	6		
D	10			

3)

	A	B	C	D
A		2	10	
B	2			2
C	10			5
D		2	5	

2)

	A	B	C	D
A		2	9	
B	2		4	
C	9	4		6
D			6	

4)

	A	B	C	D
A		2		3
B	2		5	
C		5		9
D	3		9	

23. Между населёнными пунктами А, В, С, D, Е построены дороги, протяжённость которых (в километрах) приведена в таблице. Определите длину кратчайшего пути между пунктами А и Е, проходящего через пункт С. Передвигаться можно только по дорогам, протяжённость которых указана в таблице.

	A	B	C	D	E
A		1	4	3	7
B	1		2	5	
C	4	2		3	
D	3	5	3		2
E	7			2	