

Тренировочные задания

1. Вставь пропущенные числа.

1, ... , 3, 4, ... , ... , 7, ...

2. Как записать цифрой число «шесть»? Подчеркни.

5, 2, 6, 4

3. Сравни числа, поставь знак $>$ $<$ $=$.

6 2 1 7 8 4 6 6

4. Вставь нужный знак $+$ или $-$

$2 \square 3 = 5$ $6 \square 2 = 4$ $7 \square 1 = 8$ $8 \square 2 = 6$

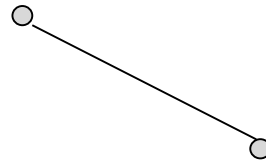
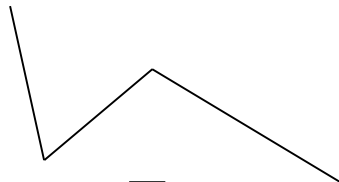

5. Вставь число в окошко.

$\square + 1 = 6$

$3 - \square = 2$

$8 - \square = 5$

6. Отметь галочкой ломаную линию.



7. Реши примеры.

$2 + 1 =$

$2 + 3 =$

$5 + 1 =$

$6 - 2 =$

$4 - 1 =$

$4 - 2 =$

* 8. Нарисуйте какой –нибудь треугольник.

